

Name:

Datum:

Mathe Mini



### Muster fortsetzen

+	●	★																
---	---	---	--	--	--	--	--	--	--	--	--	--	--	--	--	--	--	--

+	●	●	+															
---	---	---	---	--	--	--	--	--	--	--	--	--	--	--	--	--	--	--


+	+	★	+															
---	---	---	---	--	--	--	--	--	--	--	--	--	--	--	--	--	--	--

So kann ich das:	
Ich vermute:	So kann ich es:

Name:

Datum:

Mathe Mini



### Die Zahl 3

### Plättchen werfen!

OOO		
O OO		
O OO		
O OO		

So kann ich das:	
Ich vermute:	So kann ich es: Mit Material:
	Ohne Material:

Name:

Datum:

Mathe Mini



 Orientierung!



Was ist links neben der Sonne?



Was ist unter dem Kleeblatt?



Was ist rechts neben dem Apfel?



Was ist über dem Mond?



Was ist unter dem Teddy?



So kann ich das:


Ich vermute:

So kann ich es:

Name:






Datum:

Mathe Mini



Wie viele sind es?

Male die richtige Anzahl der Punkte an und schreibe die Zahlen!

				
OOOOO	OOOOO	OOOOO	OOOOO	OOOOO

So kann ich das:

Ich vermute:

So kann ich es:

© Grundschule am Grünen Markt Erding – Bildquelle: pixabay

Name:






Datum:

Mathe Mini



Die Zahlen bis 5!

Male dazu oder streiche weg!

				
OOOOO 2	OOOOO 5	OOOOO 3	<del>OOOOO</del> OO	<del>OOOOO</del>

So kann ich das:

Ich vermute:


So kann ich es:

© Grundschule am Grünen Markt Erding – Bildquelle: pixabay

Name:

Datum:

Mathe Mini



Die Zahlen bis 5!  
Schüttelschachteln bis 5. Male oder schreibe dazu!

3

5

4

2			3			2

2

3

4

2			1			3

So kann ich das:

Ich vermute:

So kann ich es: